



VIAGGIO IN ITALIA

eTwinning Project 2019/20

INDICE

Indice

Scuole partecipanti	4
Ci presentiamo	6
Il logo del progetto	23
Cartine dell'Italia	33
Italia politica	39
Le regioni italiane in numeri	49
Condividiamo la cultura... Buon Natale!	56
Le Regioni italiane. La Lombardia	59
Le Regioni italiane. La Toscana	74
Le Regioni italiane. Il Molise	78
Somatopie e cartoline.....	82
Padlet conclusivo.....	108
Verifiche create dagli alunni	117
Restiamo in contatto durante il lockdown	131

SCUOLE PARTECIPANTI

Sonia Speranzini, Milano (Mi), Italy, ICS "Via Maniago" di Milano

Laura Mezzone

Limas, France
Collège Maurice Utrillo

Bérengère

SALEMI

Marseille, France
Collège Jean Giono

Laura Perron

Cabus

Torino (To), Italy
IIS "Maria Ausiliatrice"

Carmen Parisi

Egle Sala

Bojano (CB), Italy
ICS "F. Amatuzio-
Pallotta"



Arianna Bulleri

Collesalveti,
Italy
ICS "Minerva
Benedettini" di
Collesalveti

Federica

Petrignani

Montecastrilli
(TR), Italy
ICS "Ten.
Petrucci" di
Montecastrilli

Roberta Di

Giuliano

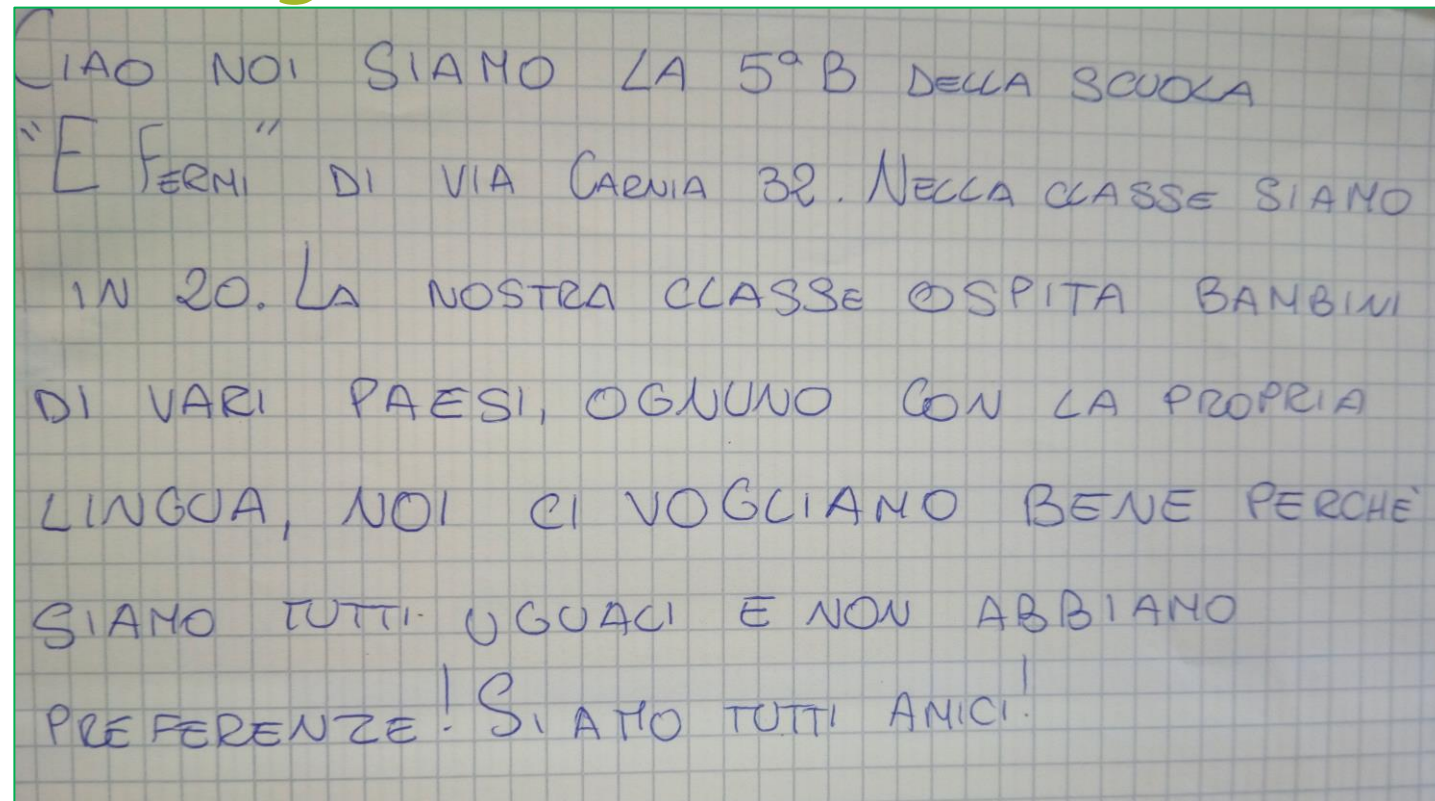
San Salvo (CH),
Italy
ICS San Salvo 2

CI PRESENTIAMO




Ci presentiamo...

Classe 5B – Scuola Primaria E. Fermi
via Carnia 32 – Milano – Italia
Ic Via Maniago



CIAO NOI SIAMO LA 5^a B DELLA SCUOLA
"E FERMI" DI VIA CARNIA 32. NELLA CLASSE SIAMO
IN 20. LA NOSTRA CLASSE OSPITA BAMBINI
DI VARI PAESI, OGNUNO CON LA PROPRIA
LINGUA, NOI CI VOGLIAMO BENE PERCHE'
SIAMO TUTTI UGUACI E NON ABBIAMO
PREFERENZE! SIAMO TUTTI AMICI!



TUTTI SIANO
UNITI.
LA PACE
È IMPORTANTE


Kias, la nostra ^{scuola} si chiama E. Fermi.


Vicino al giardino c'è un orto, la palestra è abbastanza grande, abbiamo due mense: una grande e una piccola. Abbiamo un giardino immensamente grande. La scuola si trova in Lombardia, a Milano, in via Carnia 32. Abbiamo un'aula di informatica. La nostra scuola si piace ma l'anno prossimo dovremo andare alla secondaria.



La nostra scuola si chiama "E. Fermi", ha un piano terra e altri due piani.

Al piano terra ci sono la portineria, la mensa e la palestra. Al primo piano ci sono l'atrio e il refettorio piccolo, il posto in cui mangiano alcune classi. Al secondo piano ci sono l'aula per i giochi serali, la biblioteca e l'aula informatica.



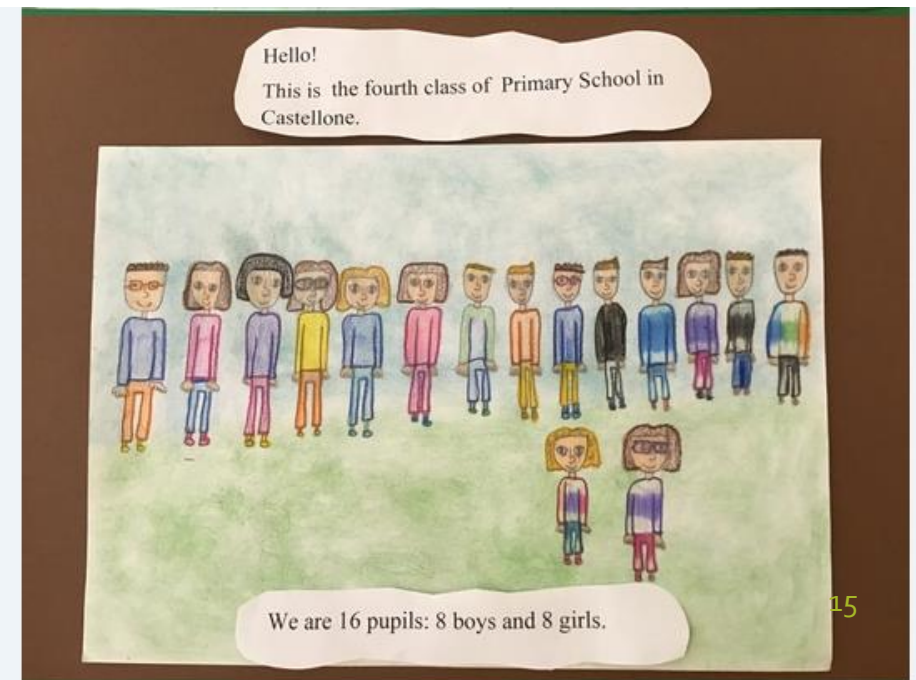
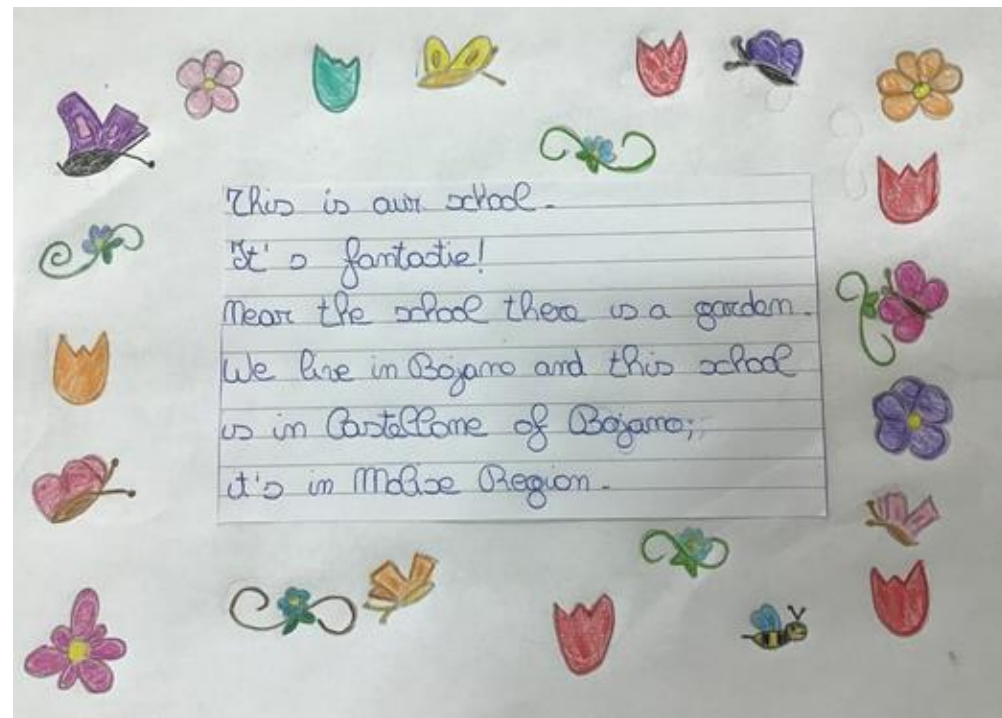



Ciao a tutti siamo la 5⁰B. La nostra classe è composta da 10 maschi e 10 femmine. Ci sono bambini di nazionalità diverse e alcuni italiani. Siamo simpatici e socievoli e speriamo di fare nuovi amici. Di solito ci piace fare i lavori di gruppo.



Castelleone (Bojano – Molise)







Collège Jean Giono - Marseille, France

Ciao a tutti dalla 6e3 di
Marsiglia!

Najil, Eilya, Kamil, Dyha, Eddy,
Yasmine, Tifani, Anxhela,
Giulia, Lina, Andréa, Chloé,
Lyna, Lina, Emma, Léa, Lina,
Maria, Yanis, Noa, Samuel,
Allane, Lenny, Lorenzo, Milan,
Moktar, Anas



Collège Maurice Utrillo – Limas, France

Prof Mezzone - 23g

Ci presentiamo - Atelier Scoperta dell'italiano

Siamo un piccolo Gruppo di alunni francesi di 6ème - Vogliamo scoprire l'Italia e l'italiano

ENZO
Presentazion...
padlet drive

SANDRO

MARIYA

LOVE

POUT nous dans une semaine c'est les vacances!!

LUCIE

Maurice

IIS "Maria Ausiliatrice" – Torino, Italy




This is our first activity: SAY ITALY, SAY...


And these are our words about ITALY.



We are year 5B
from Istituto
Maria
Ausiliatrice in
Turin - in the
North of Italy .
We are 30 in
class.
HAPPY TO
MEET YOU ALL!



Try the game: SAY ITALY; SAY...



ICS "Ten. Petrucci" Montecastrilli (Terni) Italy

Ciao a tutti dalla VA di Montecastrilli

*Marta Clara Nicole Mauro Aurora
Sophia Gabriele Daria Lorenzo Sara
Sofia*



Scuola "Rodari" di Stagno (LI)

Ciao a tutti dalla V A della Scuola "Rodari" di Stagno (LI)!

Siamo contenti di iniziare il viaggio con voi tutti!!!



Il cortile della nostra scuola, di cui stiamo decorando i muri con il progetto "Street Art".



Qualche
angolo di
Livorno!
A presto!



IL LOGO DEL PROGETTO



IIS "Maria Ausiliatrice" – Torino, Italy

We have done our logos, then voted for the most popular. Here you can see them.



ICS "Via Maniago" – Milano, Italy



Classe 5B –
Scuola Primaria
E. Fermi
via Carnia 32 –
Milano - Italia





I.C. F. Amaturio- Pallotta di Bojano, plessso di CASTELLONE



IC Ten F Petrucci - Montecastrilli (TR)



Questo il nostro più votato

I.C. F. Amaturio- Pallotta di Bojano, plesso di CASTELLONE



Collège Jean Giono Marsiglia



Ecco il logo vincente! è il logo di Léa! Brava!



ICS San Salvo 2

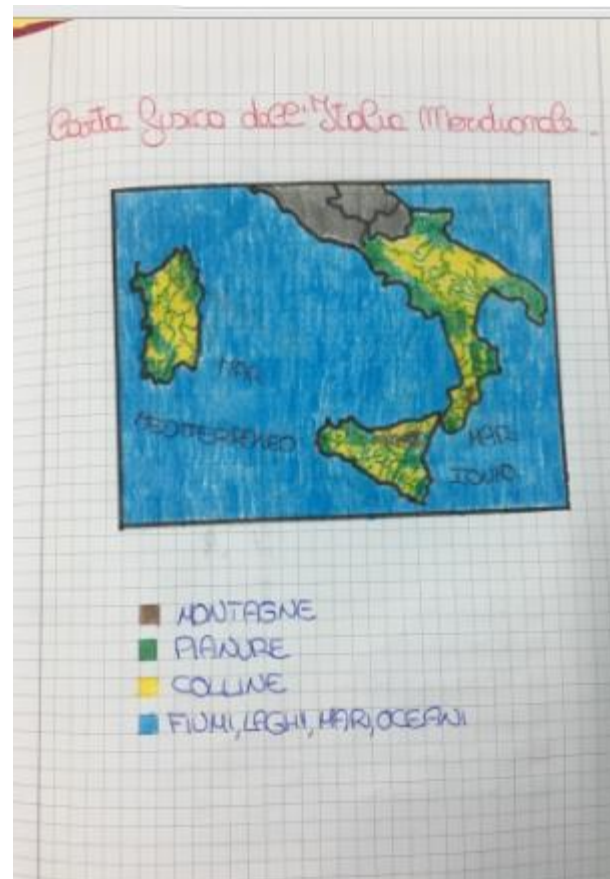
San Salvo (Chieti)



CARTINE DELL'ITALIA



ICS "F. Amatuzio-Pallotta" Bojano (CB), Italy



ICS San Salvo 2 - San Salvo (CH), Italy



Scuola
Primaria
Castellone.

ICS "F.
Amatuzio-
Pallotta"



Cartina fisica dell'Italia centrale



LEGENDA

- | | |
|------------|----------------------|
| ■ MONTAGNE | ■ MARI-LAGHI - FIUMI |
| ■ COLLINE | |
| ■ PIANURE | |

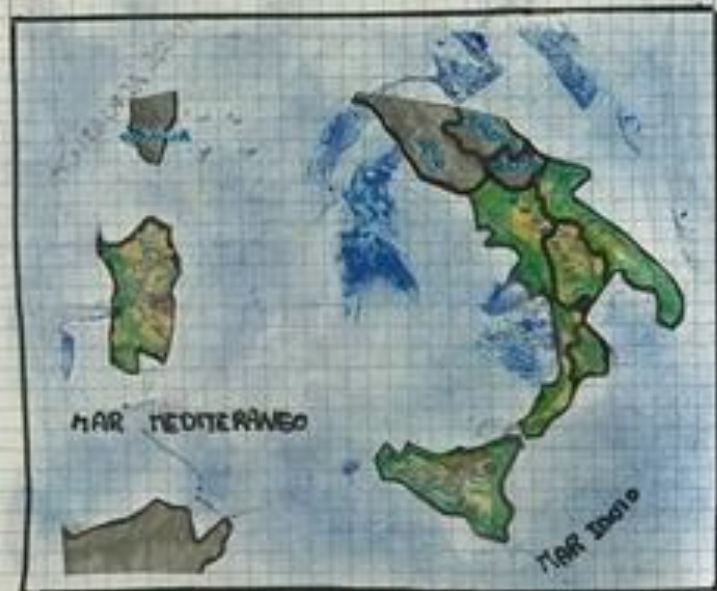
Cartina politica dell'Italia centrale



LEGENDA

- | | |
|------------------|------------|
| □ EMILIA-ROMAGNA | ■ ABRUZZO |
| ■ TOSCANA | ■ MOLISE |
| ■ UMBRIA | □ CAMPANIA |
| ■ MARCHE | □ PUGLIA |
| ■ LAZIO | |

Portina fisica dell'Italia meridionale



LEGENDA

- MONTAGNA
- COLLINE
- PIANURE
- MARI - FIUMI - LAGHI

Portina politica dell'Italia meridionale



LEGENDA

- LAZIO
- ABRUZZO
- MOLISE
- CAMPANIA
- BASILICATA
- PUGLIA
- CALABRIA
- TUNISIA
- FRANCIA
- SARDEGNA
- SICILIA

ITALIA POLITICA



IC Via Maniago – Milano Primaria E. Fermi

SCOPRIAMO L'ITALIA dal punto di vista POLITICO



ITALIA POLITICA

L'ITALIA HA VENTI REGIONI. Sul territorio italiano ci sono anche due piccoli Stati indipendenti: la Repubblica di San Marino e la città del Vaticano che si trova nel centro di Roma.

MAGDA E REBECCA

CHE COS'E' LO STATO ITALIANO

L'Italia è una Repubblica democratica. La Parola Repubblica deriva dal latino **RES (=COSA)** e **PUBLICA (=di TUTTI)** e indica che lo Stato è di tutti. La parola democratica deriva da due antiche parole: **DEMOS (=POPOLO)** e **KRATOS (=POTERE)**. Una repubblica democratica è uno Stato **governato dal popolo**. Il popolo non governa direttamente ma sceglie dei rappresentanti.

SAIF E DARIO F.



Abbiamo lavorato a gruppi e abbiamo realizzato insieme questa ricerca sull'Italia politica. Speriamo vi possa essere utile.

L'ORGANIZZAZIONE DELLO STATO

LA COSTITUZIONE stabilisce come deve essere organizzato lo Stato, infatti ha degli articoli di

legge molto importanti. I compiti dello Stato sono affidati a tre diverse istituzioni: il Parlamento, il Governo e la Magistratura.

Il **parlamento** ha IL **POTERE LEGISLATIVO**, cioè FA LE LEGGI. Il **governo** ha il **potere esecutivo**, cioè ha il compito di attuare, e di mettere in pratica le leggi. La **magistratura** ha il potere **giudiziario** cioè di far rispettare le leggi e giudica le persone che non le rispettano.

SOFIA I. E TOMMASO



Il Parlamento

GLI ENTI LOCALI

L'Italia è un territorio molto esteso e per soddisfare i bisogni dei cittadini lo Stato ha diviso il territorio in enti locali. Ogni Ente locale è autonomo ma deve sempre rispettare le leggi dello Stato. Gli Enti locali sono le Regioni, i Comuni e le Citta' Metropolitane.

ALESSIO E DIANA

LA COSTITUZIONE ITALIANA

La Costituzione italiana è la legge più importante: contiene 139 articoli. I primi 12 sono le leggi fondamentali, i successivi spiegano come devono essere applicati e parlano dei diritti, delle istituzioni e dei doveri delle persone.



DARIO R. E NATALHIE

DOVE VIVONO GLI ITALIANI

La densità di popolazione dell'Italia è di 201 abitanti per km quadrato ed è una tra le più alte d'Europa. La maggior parte della popolazione italiana vive in pianura (49%). Il resto vive in collina (39%) e in montagna (12%). Le regioni italiane più popolate sono Campania e Lombardia perché sono abbastanza pianeggianti per costruire città. La popolazione abita soprattutto a Milano, Napoli e Roma.

STEVEN E IBRAHIM



IL LAVORO IN ITALIA

In Italia, la maggior parte dei lavoratori è impiegata nel settore terziario. Le persone che lavorano o che stanno cercando lavoro fanno parte della popolazione attiva.

Jimmy e Mafdy

LE LINGUE

L'italiano è la lingua ufficiale dell'Italia. L'italiano ha origine dal latino. In alcune Regioni c'è una seconda lingua, come il francese o il tedesco.

QUALI RELIGIONI SI PRATICANO

In Italia i cittadini sono liberi di scegliere o di praticare qualsiasi religione. La religione cristiana cattolica è la più diffusa. In Italia vi sono altre religioni che non sono cristiane, come musulmani, buddisti ed ebrei.

LINA E ALESSANDRA

Collège Jean Giono, Marseille, France



Gli alunni della 6e3 studiano i diversi aspetti dell'Italia!
Italia politica, culturale e sportiva, geografica e
la popolazione italiana.

Lomany

L'Italia Politica

Pinas



Le colori della bandiera dell'Italia sono:
Verde, bianco, rosso



Il presidente del consiglio
si chiama: Giuseppe Conte

La valuta dell'Italia
è: Euro

Il presidente della repubblica
italiana è: Sergio Mattarella.
Il presidente della repubblica
è eletto per: sette anni.

Viene chiamato il nome
del l'inno nazionale è:
Fratelli d'Italia

Fratelli d'Italia

Fratelli d'Italia, l'Italia si
desta
Dell'elmo di scipio, si cinta
la testa
Dove la vittoria, le perga la
chiama
che schiava di roma, iddiola
crea!



maria

gasmine

L'Italia!!!!!

Milan, Torino,
Roma, Lazio S
et Mokhar!

- * L'Italia conta 60,6 milione di abitanti
- * Le lingue parlate in Italia sono il Italiano, il Francese, il Tedesco e Slovonia
- * gli Italiani vivono principalmente in tre grandi città che sono: Roma, Napoli e Milano.



Le religioni in Italia sono
Cattolicesimo, e Islam, e
Orthodossia, senza religione
e altra religioni.



* Lo sport nazionale
in Italia è il calcio



il calcio

Decorative area with symbols: a cross, an open book, a smartphone, and a DNA double helix. The page number '45' is visible at the bottom right.

L' Italia politica



Sergio Mattarella

Il presidente

Il presidente è eletto per sette anni.



Giuseppe Conte

Il presidente del consiglio

Il motto dell' Italia è "Nata per Unire"

L' inno nazionale si chiama "Fratelli d' Italia"



Tricolore

Il presidente della repubblica italiana si chiama Sergio Mattarella, il presidente del consiglio di amministrazione è Giuseppe Conte, i colori della bandiera italiana sono verde bianco e rosso, il presidente è eletto per sette anni, il motto dell' Italia è "Nata per Unire", l' inno nazionale si chiama "Fratelli d' Italia".

Luca, Sara, Daria, Ylenia

L' ITALIA GEOGRAFICA



L' Italia è un paese dell' Unione Europea. La capitale dell' Italia è Roma. L' Italia è un paese a forma di stivale.

I mari d' Italia sono il mar Mediterraneo, mare di Tirreno, lo Jonio e mare Adriatico.



L' Italia ha due grandi isole Sicilia e Sardegna. L' Italia conta venti regioni. Cinque Regioni fanno una Stato speciale. Essi sono: la Sardegna, la Sicilia, il Valle d' Aosta, il Friuli, l' Aosta. L' Italia ha quattro vulcani. Essi sono: Vesuvio, Etna, Stromboli.



La valuta italiana è l' Euro



Giulia - Lisa P. - Lisa M. - Noa - Arianna


Italia

L'Italia conta grandi artisti come Leonardo da Vinci e Raffaello.



L'Italia ha grandi monumenti come la Torre di Pisa e il Colosseo.

L'Italia conta grandi scrittori come Dante e Petrarca.



cupola le e sportiva

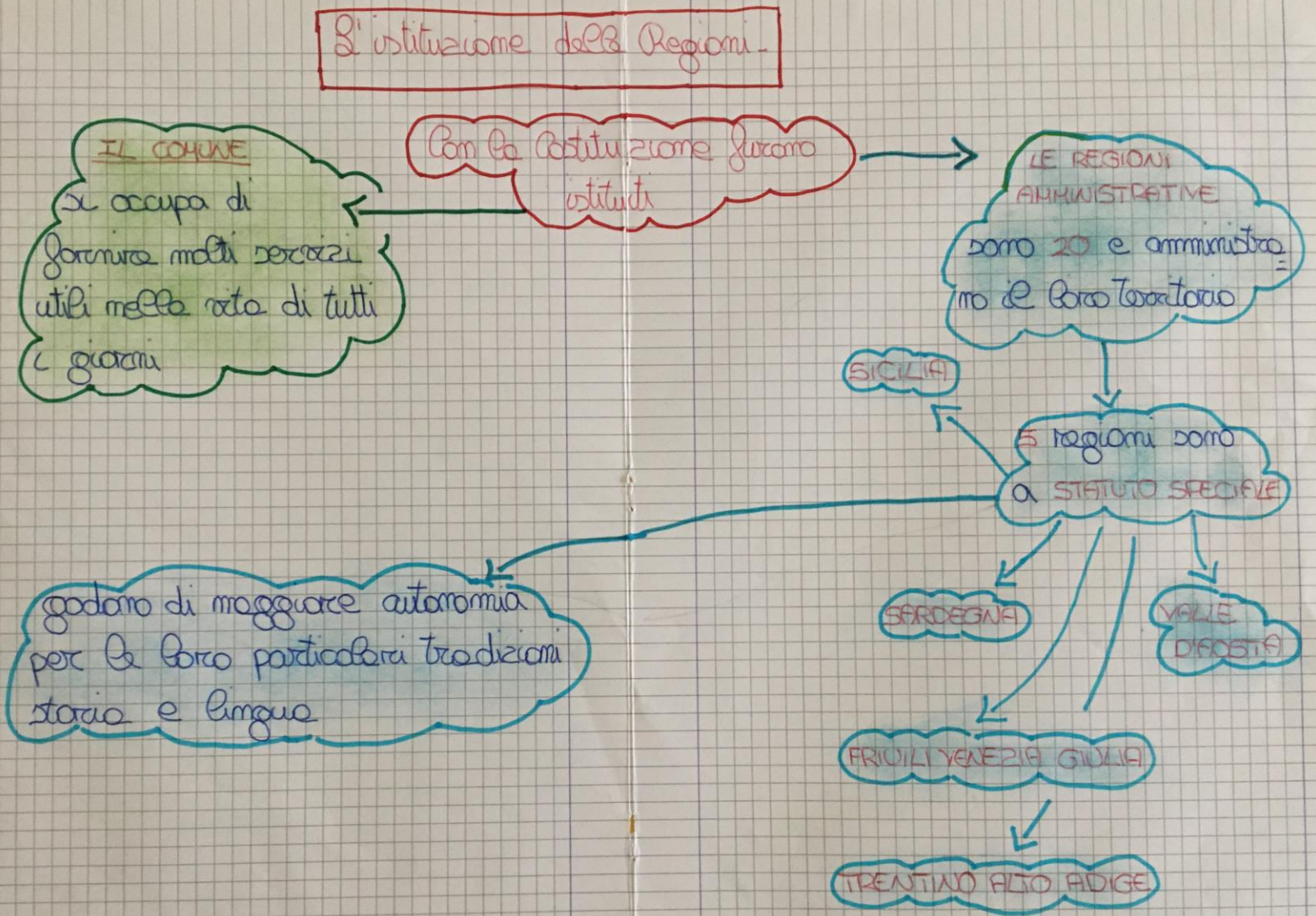
Le squadre di calcio si chiamano la Nazionale.
Valentino Rossi è un grande pilota di moto.



Francesco Totti è un grande calciatore.
Federica Pellegrini è una grande sciatrice.



ICS
"F.
Amatuzio
-Pallotta"
Bojano
(CB), Italy



LE REGIONI ITALIANE IN NUMERI

Compito interdisciplinare di
geografia e matematica

La classe VA di Collesalvetti è lieta di presentarvi un compito interdisciplinare di geografia e matematica sulle Regioni d'Italia.



Il lavoro prevedeva di raccogliere i dati sulle varie Regioni e di trasformarli in grafici, in modo che fosse ben comprensibile il confronto fra le Regioni date ad ogni gruppo. L'assegnazione delle Regioni è stata casuale.

Alcuni gruppi, per decorare il cartellone, hanno aggiunto i piatti tipici delle Regioni.

FRIULI-VENEZIA-GIULIA



GNOCCHI-DI-PATATE



LAZIO





CARCIOFI-ALLA-ROMANA



BASILICATA



GAMBOTTA




EMILIA-ROMAGNA



PIADINA-ROMAGNOLA
SALUMI+PRUSCIUTTO...

CHRISTIAN.M, RACHELE, FRANCESCO, DANIEL



SICILIA MARCHE MOLISE VALLE D'AOSTA



regione 24%
 altre 66%
 T 10%



regione 44%
 altre 49%
 T 7%




regione 77%
 altre 19%
 T 4%

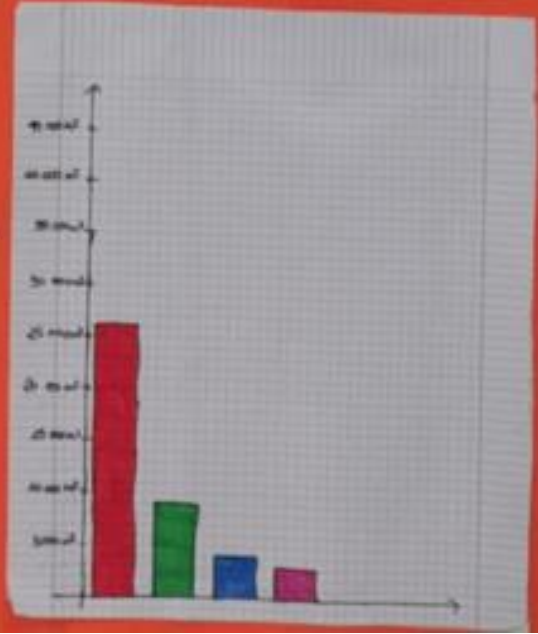


regione 88%
 altre 10%
 T 2%

2-12-01-07



Sicilia
 Marche
 Molise
 Valle d'Aosta



2-12-01-07

PIEMONTE



montagne 48%
colline 30%
pianura 22%

VENETO



montagne 22%
collina 50%
pianura 28%

ABRUZZO



montagne 65%
collina 35%



CALABRIA



montagne 42%
collina 40%
pianura 18%



- Piemonte
- Veneto
- Abruzzo
- Calabria



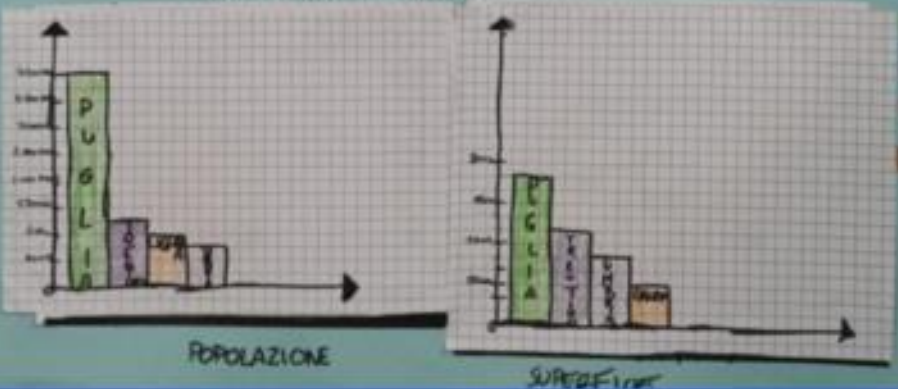

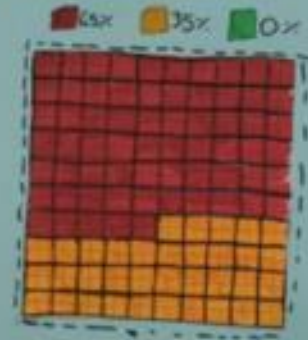
Mariael, Greta,
Eva, Samuel, Gabriele B.




TRENTINO PUGLIA



UMBRIA



- Puglia
- Trentino
- Umbria
- Liguria



Emma
Marta
CHRISTIAN C.
ALESSIO
SALVATORE

LOMBARDIA - TOSCANA - SARDEGNA - CAMPANIA




Territorio
 montagna 41%
 collina 12%
 pianura 47%



Territorio
 montagna 25%
 collina 67%
 pianura 8%



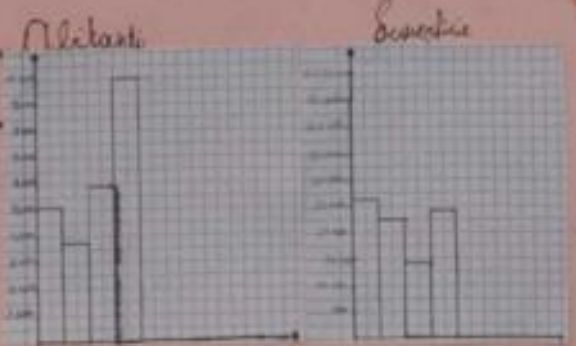
Territorio
 Montagna 16%
 collina 68%
 pianura 16%



Territorio
 montagna 34%
 collina 51%
 pianura 15%



■ Toscana
 ■ Sardegna
 ■ Campania
 ■ Lombardia



Sardegna 26 000
 Toscana 23 000
 Campania 44 000
 Lombardia 24 000

Geacomo B.
 Arianna
 Mattia
 Alessandro

**CONDIVIDIAMO LA
CULTURA...
BUON NATALE!**



ICS "F. Amatuzio-Pallotta" Bojano (CB), Italy



Buongiorno a tutti... Stiamo preparando i bigliettini natalizi da spedire, speriamo di fare in tempo! Un abbraccio a voi.

IC Via Maniago - Milano

Merry Christmas!



This is the Christmas crib of our school: "Christmas in Europe". Every class created a scene of a different European Nation.



Scuola Primaria E. Fermi

via Carnia 32 - 20132 MILANO

(Italy)

LE REGIONI ITALIANE

La Lombardia

La Lombardia e le sue città

Informazioni tratte principalmente da "Lombardia" di Silvia Alberti, ed. Touring Club-Casa Editrice La Scuola, Brescia, 2006 e dai siti dei diversi Comuni.

Libera rielaborazione realizzata a gruppi dagli alunni della classe 5B, Scuola Primaria E. Fermi, via Carnia 32 MILANO.


MILANO e la sua provincia

CHI ATTRAVERSA LA PROVINCIA DI MILANO DA NORD VERSO SUD POTREBBE AVER L'IMPRESSIONE DI MUOVERSI DENTRO UN' UNICA GRANDE CITTA' DAI CONFINI INDISTINTI . IN REALTA' I NUMEROSI CENTRI URBANI CHE SI SUSSEGUONO ININTERROTTAMENTE HANNO TUTTI UNA PROPRIA CARATTERISTICA .

NEL CUORE DI MILANO

L'INTINERARIO CHE TI PROPONIAMO PARTE DELLA CHIESA di SANTA MARIA DELLE GRAZIE , FACILMENTE RAGGIUNGIBILE DALLA FERMATA DELLA METROPOLITANA "CONCILIAZIONE " .

IL MERAVIGLIOSO AFFRESCO DEL CENACOLO REALIZZATO FRA IL 1495 E IL 1498 è STATO RIAPERTO AL PUBBLICO DA QUALCHE ANNO, DOPO UN LUNGO RESTAURO CHE HA PERMESSO DI RIPORTARE ALLA LUCE FORME E COLORI CHE ERANO ANDATI PERSI NEL TEMPO.



PUOI ANCHE VISITARE LA BASILICA DI SANT'AMBROGIO.

CENNI STORICI

MILANO FU ABITATA INIZIALMENTE DAI CELTI, FU POI CONQUISTATA DAI ROMANI NEL III SECOLO A. C. E DAL VI SECOLO D. C. FU SOTTO IL DOMINIO DEI LONGOBARDI.

ARRIVIAMO ALLA MADONNINA

NELLA ZONA DEL DUOMO C'E' PIAZZA MERCANTI DOVE IN EPOCA MEDIEVALE SI SVOLGEVA IL MERCATO.


SU UNO DEI LATI C'E' IL PALAZZO DELLA RAGIONE DOVE SI RIUNIVANO I RAPPRESENTANTI DELLA CITTA' QUANDO MILANO ERA UN LIBERO COMUNE.



IL DUOMO E' LA CATTEDRALE DI MILANO, INIZIATA NEL 1386.

L'INTERNO DELLA CHIESA E' DIVISO IN CINQUE NAVATE SEPARATE DA ENORMI PILASTRI E ILLUMINATE DA GRANDI VETRATE COLORATE LATERALI CHE RACCONTANO STORIE SACRE.

SULLA GUGLIA PIU' ALTA SVETTA LA CELEBRE MADONNINA IN RAME DORATO, POSTA NEL SETTECENTO E PROTETTRICE DELLA CITTA'.



Nathali e Tommaso

Bergamo e la sua provincia



Bergamo si estende su un territorio per metà montuoso e per metà pianeggiante e questo ha consentito alle valli bergamasche, di conservare nel tempo molte tradizioni.

Bergamo, una o due città?

Bergamo si trova in collina, dove sorsero i più antichi insediamenti e si sviluppò la città durante il Medioevo, ben protetta contro gli assalti dei nemici per la sua posizione privilegiata e da una potente cinta muraria. La zona viene definita Bergamo Alta. Bergamo Bassa, si è sviluppata in epoca più recente e lì sono sorte le diverse attività produttive e i quartieri residenziali.

Un soldato per mestiere

Bartolomeo Colleoni fu un grande condottiero del Cinquecento a capo di mercenari. Servì i signori di Venezia, Milano e Mantova, ma il suo nome è particolarmente legato alla città di Bergamo. Fece costruire canali per l'agricoltura, chiese e castelli. Da ricordare, tra questi, il Castello di Malpaga, nei pressi di Cavernago dove morì nel 1476.

Statua equestre di Bartolomeo Colleoni



Sofia A. - Dario R.

BRESCIA e la sua provincia

La provincia di Brescia è la più vasta della Lombardia ed è caratterizzata da una vasta area di pianura, dalla presenza di tre laghi e tre valli: la Valcamonica, la Val Trompia e la Val Sabbia.



IL PASSO DEL TONALE mette in comunicazione la provincia di Brescia con quella di Trento.

Ponte di Legno, importante stazione sciistica, è la base di escursioni sulle vette dell'Adamello.

Tutto il territorio è ricco di acque minerali e curative.

Le principali fonti sono a Boario e Angolo in Valcamonica e a Sirmione sul Lago di Garda.

All'estremità della penisola di SIRMIONE, sul lago di Garda, si trovano i resti di una villa romana del I secolo d.C., denominata "Grotte di Catullo".



A Brescia in piazza Paolo VI puoi ammirare il **Duomo Vecchio** o Rotonda, a pianta circolare, e il **Duomo nuovo**, la cui costruzione è iniziata nel Seicento.

A Brescia sono stati rinvenuti numerosi reperti dall'epoca

Romana.

Per raggiungere la Valcamonica si parte da Brescia, in direzione del Passo del Tonale.

A Capo di Ponte troverai il Parco Nazionale delle Incisioni Rupestri, eseguite dai Camuni, il popolo che viveva in questa valle dal

Neolitico. Le incisioni mostrano una grande quantità di soggetti, ma probabilmente sono dovute a interventi di singoli individui .



Magda e Kautar



COMO e la sua provincia

IL TERRITORIO E' MONTUOSO. LA POPOLAZIONE VIVE PER LA MAGGIOR PARTE NELLA ZONA CARATTERIZZATA DA COLLINE DENOMINATA BRIANZA.

IL CAPOLUOGO SI TROVA SUL RAMO OCCIDENTALE DEL LAGO.

COMO E' DEFINITA LA CITTA' MURATA IN RICORDO DI ANTICHE MURA CHE LA CIRCONDAVANO. OGGI DI QUELLA CINTA MURATA RIMANGONO SOLO ALCUNI TRATTI E L'IMPONENTE PORTA TORRE.



Giacomo



CREMONA e la sua provincia

La provincia di Cremona, situata nella Bassa Pianura Padana, è delimitata da tre grandi fiumi: il Po a Sud, l'Oglio a Est e l'Adda a

Ovest.

Cremona fu fondata dai Celti, dominata dai Romani e dai Longobardi: dopo il Mille si costituì come Libero Comune. Nel Quattrocento fu governata dai Visconti e nel Cinquecento dagli Sforza. Subì la dominazione spagnola a cui seguirono quella austriaca e napoleonica fino all'Unità d'Italia.

Rebecca

LECCO E LA SUA PROVINCIA



La provincia di LECCO, istituita nel 1992, si estende attorno al ramo orientale del Lago di Como, fra le provincie di Como e di Bergamo. Lecco, cittadina industriale, si trova sulla sponda del lago dove il Fiume Adda esce dal Lario. Il territorio è montuoso a Nord , a Sud diventa collinare. Pescarenico è un rione nella zona a Sud di Lecco.

LETTERATURA DI VIAGGIO

A Lecco è ambientata il più celebre dei romanzi italiani, I Promessi Sposi, scritto da Alessandro Manzoni nell'Ottocento. A Lecco è possibile visitare Villa Manzoni ,dove l'autore trascorse gli anni dell'infanzia e la giovinezza.

VIAGGIA E ASSAGGIA

Il tipico piatto del lago è il pesce, ancora oggi pescato in abbondanza. Viene accompagnato dalla polenta, gialla o "taragna". Un'altra specialità della zona sono i MISSOLTITT : agoni (pesci di acqua dolce) essiccati al sole, poi pressati in scatole di latta con foglie di alloro e conditi, passati infine sulla graticola.



Lodi e la sua provincia

Il territorio di Lodi è completamente pianeggiante ed è racchiuso tra quattro corsi d'acqua naturali: l'Adda a Est, il Po a Sud, il Lambro a Ovest.

Il territorio lodigiano è una tipica zona della Bassa Lombarda ed è caratterizzato dall'attività agricola. Si coltivano foraggio, mais, soia e si allevano bovini e suini.



Piazza della Vittoria è al centro della città. Su di essa sorge il Duomo del XII secolo, con l'interno suddiviso in tre navate. Da Lodi puoi dirigerti senza

Somaglia dove si trova un'oasi naturale curata dal WWF.



MANTOVA E LA SUA PROVINCIA

La provincia di Mantova si trova nella zona sud-orientale della Lombardia, al confine con il Veneto e l'Emilia Romagna. La provincia di Mantova è attraversata dal fiume Mincio, che giunto in città crea tre laghi. La zona è ricca di campi coltivati.

Il tuo itinerario ha inizio da piazza Sordello, sui si affacciano il Duomo e il Palazzo Ducale.

Molto bello è castello di San Giorgio; altri monumenti sono: il Palazzo del Podestà, il Palazzo della Ragione, la Torre dell'Orologio e la Rotonda di San Lorenzo. In piazza Mantegna c'è la Basilica di Sant'Andrea. Molto bello è Palazzo Te.



Steven



Monza e Brianza e la loro provincia

La provincia di Monza e Brianza è stata istituita nel 2004. E' una zona molto popolata, ricca di industrie ma con grandi spazi verdi e antichi edifici.

Monza conserva molti preziosi monumenti, come il Duomo e Villa Reale.

Ibrahim



Villa Reale di Monza



Pavia e la sua provincia

La provincia di Pavia è nella zona sud-occidentale della Lombardia.

La zona pianeggiante a Nord è caratterizzata dalla presenza del Po e del Ticino. Ci sono poi una zona collinare al centro e una zona montana più a Sud, sull'[Appennino](#).

Jimmy e Mafdy

Sondrio e la sua provincia



La provincia di Sondrio occupa la zona nord-occidentale della Lombardia; il suo territorio comprende la Valtellina che seguendo il corso del fiume Adda va dal Lago di Como ad Ovest, fino alle pendici del massiccio dell'Ortles e al Parco Nazionale dello Stelvio a Est. Questa valle è chiusa a Nord dalle Alpi Retiche e a Sud dalle Alpi Orobie.

Lina e Sofia I.

VARESE E LA SUA PROVINCIA

La provincia di Varese si estende su un territorio non particolarmente vasto ma ricco e vario.

Zona di snodo e di passaggio per i commerci diretti al di là delle Alpi, Varese è una delle più industrializzate province della regione.

L'itinerario che vi proponiamo parte da Palazzo Estense, attualmente sede del Municipio, costruito dal governatore Francesco III d'Este.

Potete ammirare il salone d'Onore, il suo cortile con il portico che si affaccia sugli splendidi Giardini, un ampio ed elegante parco proprio nel cuore della città.



MILAE COLLEZIONE PANZA | Bina FAI

Proseguendo verso nord costeggia la zona chiamata Castellanza di Biumo. A Biumo Superiore si trovano due ville: Villa Menafoglio Litta Panza e Villa Ponti.

NEL PARCO REGIONALE DEL TICINO

L'itinerario parte da Golasecca, situata nel Parco Regionale del Ticino . Golasecca è situata al centro di una zona di grande interesse dal punto di vista archeologico.

Proprio qui, fu rinvenuta una necropoli risalente ad un'epoca compresa fra il X e il VI sec. a. C. All'interno delle tombe vennero trovate le urne contenenti le ceneri dei defunti. Consigliamo di visitare anche Sesto Calende che è posta sulla sponda sinistra del Ticino. Qui puoi vedere l'imponente ponte di ferro su cui transitano i treni diretti al Sempione.



ALESSIO e DARIO F.

LE REGIONI ITALIANE

La Toscana

FIRENZE

Lavoro realizzato dagli alunni della classe VA , Scuola primaria di Collesalvetti, Italy

Si trova in un'ampia conca ad anfiteatro circondata da incantevoli colline. E' il capoluogo della Toscana e ha un clima temperato.

Nel Medioevo è stata un importante centro artistico ed è stata la capitale del Granducato di Toscana, che fu uno degli stati più ricchi del tempo. La sua potenza in ogni campo la rese la Capitale del Regno d'Italia.

Dal 1982 è patrimonio dell'Unesco, è considerata luogo di origine del Rinascimento. E' riconosciuta come una delle culle dell'arte e dell'architettura, ed è rinomata per i suoi monumenti e musei tra cui la Galleria degli Uffizi, Ponte Vecchio, il Campanile di Giotto.....

Greta – Gabriele B. - Andrea

LIVORNO

Livorno è una città portuale. E' conosciuta per le specialità di pesce, le fortificazioni rinascimentali e il Porto moderno per le navi da crociera.

I bastioni della fortezza vecchia del XVI secolo si affacciano sul porto e si aprono sul quartiere Venezia Nuova di Livorno, dove sono presenti molti canali navigabili.

La Terrazza Mascagni è un viale lungo il mare con il pavimento a scacchiera, è il punto di ritrovo principale della città.

I piatti tipici: cacciucco (zuppa di pesce, piatto anticamente povero, adesso rinomato), il cinque e cinque (focaccia con torta di ceci), le triglie, il baccalà.

Giacomo B. - Gabriele S.

PISA

La città è situata nell'area della pianura attraversata dell'Arno. Alle spalle è protetta dal gruppo dei monti Pisani che la separano da Lucca.

Pisa per secoli fu una città di mare e nel Medioevo fu una delle quattro repubbliche marinare. Il complesso monumentale della piazza dei miracoli è di origine medievale costruito tra il 1063 e il 1118: il Duomo, il Battistero, il Campo Santo e la Torre Pendente. La Torre o meglio il campanile della Cattedrale di Santa Maria Assunta, era stata progettata per essere dritta ma iniziò ad inclinarsi a causa del terreno argilloso. Viene chiamata Piazza dei Miracoli, perchè Gabriele D'Annunzio in un suo romanzo chiama "miracoli" i quattro monumenti. La Piazza è dichiarata patrimonio Unesco.

Giacomo S. - Maria

LUCCA

È situata nella Toscana nord-occidentale. Secondo alcuni, è nata come insediamento ligure, mentre secondo altri ha origini etrusche. Si è sviluppata come città romana a partire dal 180 a.C.

Il centro storico conserva strutture di varie epoche antiche e soprattutto la cinta muraria cinquecentesca.

Ogni anno a Lucca si svolge un evento internazionale “Lucca comics and games”, che è una fiera dedicata al fumetto, all'animazione e a qualsiasi tipo di gioco.

Mattia – Manuel

MASSA CARRARA

La provincia di Massa-Carrara è caratterizzata da un'ampia zona costiera da cui si accede velocemente alle Alpi Apuane. In queste montagne vi sono numerose cave di marmo bianco dalle quali sceglievano i propri blocchi Michelangelo e Canova.

Sulla costa: Carrara con il Duomo interamente costruito in marmo, e Massa dominata dalla fortezza Malaspiniana, offrono centri storici ideali per rilassarsi e fare shopping.

Francesco

PRATO

La città è attraversata dal fiume Bisenzio. Si trova nel cuore della regione vicino alle città d'arte.

La zona fu abitata già dal Paleolitico e sono stati ritrovati anche molti reperti etruschi che testimoniano la pratica dell'attività tessile che anche oggi ha un ruolo importante.

Sul settore tessile si fonda la sua economia, su cui Prato ha costruito ricchezza, è cresciuta, ha sviluppato i valori dell'accoglienza e del confronto fra culture diverse.

Alessandro – Christian C.

SIENA

Siena si trova al centro di un vasto paesaggio collinare, tra le colline del Chianti e le Crete Senesi.

Fulcro della città è la famosa Piazza del Campo, nucleo centrale della città fin dal tempo dei Romani, dove ha sede il Palazzo Pubblico (Municipio) e la Torre del Mangia.

Siena è una città ricca di monumenti, palazzi e ville, ma conosciuta anche per il celebre Palio di Siena, che è una competizione tra le contrade di Siena.

Rachele - Alessio

AREZZO

Arezzo è una città pre-etrusca, abitata fin dalla preistoria. È una città d'arte e di poeti e conserva il fascino del suo ricco passato e dei grandi artisti che vi sono passati. Arezzo è conosciuta nel mondo per la Giostra del Saracino, che è un torneo equestre che si tiene due volte l'anno.

I piatti tipici di Arezzo sono: la bistecca chianina, i fegatini, la scottiglia, l'acqua cotta.

Ad Arezzo è stato girato il film di Benigni "La vita è bella".

Christian M. - Samuel

PISTOIA

Pistoia sorge in una zona ad elevato rischio sismico, infatti è stata epicentro di alcuni eventi sismici anche di forte entità.

Venne fondata nel II se. a.C: e fungeva da appoggio per le truppe romane che erano in lotta con i liguri.

Arianna – Eva

GROSSETO

Si estende su una pianura alluvionale. È stata fondata dai longobardi nell'809. Ha una cinta muraria a forma esagonale in cui sono racchiuse numerose chiese. Le sue specialità culinarie sono: cinghiale in umido, tortelli maremmani e pappardelle al sugo di lepre.


Alice – Emma

LE REGIONI ITALIANE

Il Molise

Lavoro realizzato dagli alunni della Scuola Primaria di Bojano (CB), Italy





L'ORIGINE DEL NOME MOLISE

Il nome Molise sembra derivare dal latino *malis*, che significa "macina del mulino", da cui il nome della celebre famiglia del periodo medievale dei Malizio o De Malinis.

CAPRACOTTA

Capracotta è un paesino del Molise, in provincia di Isernia, che conta circa 870 abitanti. Questo antico borgo, ricostruito dopo la seconda guerra mondiale, ha fatto parte in passato del Regno delle due Sicilie e del Regno di Napoli. Il paese è situato a circa 1421 metri sul livello del mare. Capracotta è diventato nel corso degli anni uno delle più importanti stazioni sciistiche d'Italia. Il punto più alto del comune è la vetta di Monte Campo, che si innalza fino a 1746 metri di altitudine. A valle c'è la fiuma Torrione e aree naturali protette, come il Giardino della Flora Appenninica. Il clima a Capracotta è particolarmente rigido nei

periodi invernali con neve e sporadice brezza di mare, mentre le estati sono caratterizzate da temperature miti e fresche.



MUSEO SANNTICO

Il Museo Sannitico di Benevento è situato nel centro storico della città nell'antico palazzo Massarotta ed espone reperti provenienti dal territorio dell'antico Sannium ripartibili principalmente a quella romana. Il Museo è stato fondato nel 1951. Fino agli anni 80 il museo ha cambiato più volte la sua sede. Oggi si trova nell'ex edificio Istituto Commerciale Teulada di via San Vittore Benevento. Nel complesso Calceano Massarotta. L'archeologo Antonio Sogliano

nel suo catalogo i reperti riguardano un'attività tipologica e ne organizza l'esposizione. In base a questa logica, i reperti sono presentati in quattro gruppi separati:

- "Le mura";
- "La casa";
- "Le attività";
- "I culti".

Oggi il museo ospita un'area di tipo museo-antologico, i materiali vanno dalla Bronzina all'epoca Alto medievale. Nella sala del piano inferiore è ricostruita una grande ed impressionante

teplona di un sarabito con il cui cavallo raffigura dal cavetto longobardo di Benevento, alcune sale sono attrezzate per diverse attività didattiche.



SOMATOPIE E CARTOLINE

CLASSE 5B – SCUOLA PRIMARIA E. FERMI
VIA CARNIA 32 MILANO
IC VIA MANIAGO



Abbiamo lavorato sulle
SOMATOPIE...

Sono rappresentazioni di un territorio in forma umana. Inizialmente, quando andavamo a scuola, ogni bambino ha provato a disegnare e colorare una somatopia della Lombardia e del Piemonte. Durante la didattica a distanza gli alunni hanno realizzato le somatopie di ogni regione.

Classe 5B – Scuola E. Fermi – via
Carnia 32 - MILANO





Il Piemonte



I colori della scritta del Piemonte non sono casuali; ognuno simboleggia una caratteristica della regione:

- il marrone, le montagne;
- il verde, le pianure;
- l'ocra, l'involucro dei gianduiotti;
- il viola, l'uva matura;
- il blu, il cielo riflesso sulla neve;
- all'interno della lettera O troviamo lo stemma del Piemonte;
- il grigio, infine, rappresenta l'industria automobilistica e la lettera T è sormontata dalla sagoma della Mole Antonelliana.



Noi siamo la 5B della Scuola Primaria E. Fermi di via Carnia 32 - Milano.

Ecco il Veneto visto dai nostri occhi...

Veneto



Giacomo



Alessandra



Alessio



Dario F.



Nathali



Tommaso



Dario R.

Trentino Alto Adige



Dario R.



Alessio



Dario F.



Giacomo




Tommaso



Kaoutar

Friuli Venezia-Giulia


Il Friuli Venezia-Giulia visto da Diana,
classe 5B Primaria Fermi (Milano).



Emilia-Romagna



Alessio



Alessandra



Diana



Dario F.



Dario R.



Sofia A.



M. Sofia



Lina



Nathali



Tommaso



Magda



Toscana



Alessandra




Alessio



Dario F.




Dario R.




M. Sofia



Mafdy



Nathali



Sofia A.



Saif



Steven



Tommaso

Umbria



Dario F.



M. Sofia



M. Sofia



Tommaso

SAN FRANCESCO D'ASSISI
 San Francesco d'Assisi è il
 santo patrono d'Italia ed è
 anche il santo protettore degli
 animali e della natura.
 Nasque ad Assisi nel 1182.
 La sua famiglia era ricca e
 lui era viziato e prepotente.
 Un giorno decide di cambia-
 re vita: rinunciò alle sue
 ricchezze, indossò ~~un~~ un
 saio e se ne andò di casa.
 Amava i poveri, gli ammalati,
 gli animali e pensava
 che tutte le creature di Dio
 fossero suoi fratelli, anche il
 sole e la luna.

Un giorno a Gubbio venne
 a sapere che c'era un lupo
 che terrorizzava gli abitanti.
 Lo andò a cercare, lo catturò
 e gli disse che non doveva
 più spaventare la gente. Il
 lupo invece di mangiarselo
 gli ubbidì.
 ✦ Ha fondato l'ordine dei
 frati francescani.
 San Francesco è stato anche
 l'inventore del presepe. Un
 giorno, verso Natale, portò in
 una grotta un bue, un asino
 e delle persone che facevano
 una rappresentazione vivente
 della nascita di Gesù.

Questo è stato il primo presepe




Alessio

Marche



Alessio



Kaoutar



M. Sofia



Nathali



Dario F.




Tommaso

Lazio e Roma


Ecco le nostre cartoline di Roma!



Alessio



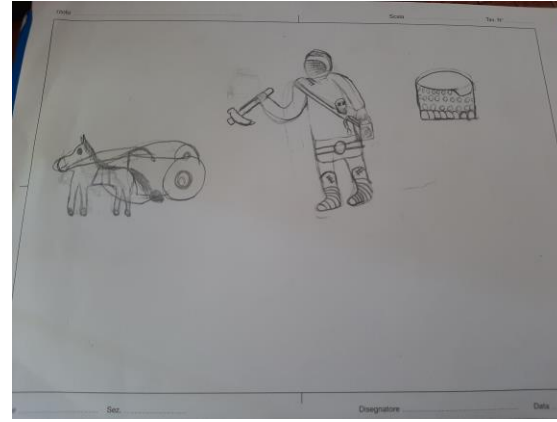
Dario F.




Alessandra



Dario F.



Ibrahim



M. Sofia



Nathali



Sofia



Steven



Alessio



Dario F.



Magda



M. Sofia

Somatopie



Nathali



Tommaso

Abruzzo

GRAN SASSO

IL GIGANTE CHE DORME



Dario R.

Lina



Molise



Alessio



Campania



Nathali



Dario F.



Diana



M. Sofia



Sofia

Puglia



Dario F.



Ibrahim



M. Sofia



Nathali



Sofia A.



Alessio




Tommaso

BENVENUTI
A
MATERA



I RESTI DEL TEMPIO DI
HERA A METAPONTO



VALUTATI DALLA BASILICATA

Alessio


Basilicata

Dario F.

Calabria



M. Sofia




Tommaso




Nathali

Sicilia



Dario F.



Sofia



M. Sofia



Steven



Tommaso

Sardegna



Jimmy

PADLET CONCLUSIVO

A conclusione del progetto, gli alunni della classe V della Scuola Primaria di Castellone, Istituto Comprensivo "F.Amatuzio-Pallotta" hanno creato un padlet riassuntivo sulle Regioni.

padlet

CLONA CON



CARMEN PARISI · 2me

VIAGGIO IN ITALIA (progetto eTwinning)

Lavoro svolto dagli alunni della classe V della Scuola Primaria di Castellone, Istituto Comprensivo "F.Amatuzio-Pallotta".

IL MOLISE

M.I., A.N., C.F., D. C., I.N., S.G.,
M.R., M.A., N.A., P.L., R.A., R.E.,
R.G., R.M., T.S., Z.A. e C.G.

L'ABRUZZO

D.C., I.N. e S.G.

IL LAZIO

M.I., M.R. e M.A.

L'UMBRIA

S.G., N.A. e P.L.

LA TOSCANA

R.A., M.I., R.E. e R.G.

LA NOSTRA REGIONE

IL MOLISE



Territorio e popolazione



Gonfalone della Regione

Territorio e popolazione



Il Gonfalone della Regione

Territorio e popolazione



La bandiera dell'Umbria

Territorio e popolazione





CARMEN PARISI · 2me

VIAGGIO IN ITALIA (progetto eTwinning)

Lavoro svolto dagli alunni della classe V della Scuola Primaria di Castellone, Istituto Comprensivo "F.Amatuzio-Pallotta".

IL MOLISE

Il Gonfalone



L'ABRUZZO

Gonfalone della Regione



IL LAZIO

Il Gonfalone della Regione

Il gonfalone Regione Lazio...



IL GONFALONE e IL SUO STEMMMA, simboli della regione Lazio.

I simboli della Regione Lazio sono stati proclamati definitivamente nel 1984 e leggermente modificati nel 1986.

- Lo stemma rappresenta un'effigie regale con un berretto di color oro; portano cinque quadrati che riproducono gli stemmi delle 5 province e il triangolo che simboleggia un manto tricolore che la tiene unita.
- Il gonfalone è di colore azzurro con lo stemma al centro; circondato dai seguenti oggetti, tutti di color oro: sopra una corona, sul lato sinistro una scala, sul lato destro un corno di quercia e sotto la dicitura "REGIONE LAZIO".

Stemma di Roma

e delle sue province!!!

Stemma di Roma

Lo stemma della Città di Roma è costituito da uno scudo gallico di color porpora su cui è presente in alto a sinistra una croce greca segata dal motto S.P.Q.R. posto in diagonale a scacolare; entrambi gli elementi sono di color oro; lo scudo è limbrato da una corona di otto foroni d'oro, cinque dei quali visibili.



L'UMBRIA

La bandiera dell'Umbria

La **bandiera dell'Umbria** prende spunto dal gonfalone disegnato dagli architetti Gino e Alberto Anselmi, vincitori del concorso nel **1971**, che descrissero il simbolo con queste parole:

« Ci premeva [...] che stemma e gonfalone divenissero segnali di quel territorio [l'Umbria, ndr], e che quindi rispecchiassero lo spirito, le tensioni, l'atmosfera, i colori di quei luoghi che ancora vivono di profonde valenze medievali. »

Il simbolo della bandiera rappresenta i tre ceri della **Corsa dei Ceri** che si tiene ogni anno a **Gubbio** in **provincia di Perugia** il 15

LA TOSCANA

La **bandiera della Toscana** prende spunto dallo stemma e dal gonfalone con il **Pegaso** in argento "inserito in uno scudo sannitico con campo rosso" disciplinato dalla L. R. n. 44 del 20 maggio **1975**, scartato l'utilizzo dell'**Uomo vitruviano** di **Leonardo da Vinci** perché troppo difficile da riprodurre^[1].

La bandiera della **Toscana** di uso marittimo nel XVIII secolo

Il Pegaso fu scelto perché fu l'emblema del **Comitato toscano di Liberazione Nazionale** durante la **resistenza** negli anni **1943-1944**: quello raffigurato sulla sua bandiera era tratto da un'incisione sulla copertina della **110^a Regia**



CARMEN PARISI · 2me

VIAGGIO IN ITALIA (progetto eTwinning)

Lavoro svolto dagli alunni della classe V della Scuola Primaria di Castellone, Istituto Comprensivo "F.Amatuzio-Pallotta".

LE MARCHE

R.M., M.I., T.S. e Z.A.

Territorio e popolazione



L'EMILIA ROMAGNA

M.I., A.N. e C.F.

Territorio e popolazione



IL FRIULI VENEZIA GIULIA

D.C., I.N. e S.G.

Territorio e popolazione



IL VENETO

M.I., M.R. e M.A.

Territorio e popolazione



IL TRENTINO ALTO ADIGE

S.G, N.A., C.G.e P.L.

Territorio e popolazione



VIAGGIO IN ITALIA (progetto eTwinning)

Lavoro svolto dagli alunni della classe V della Scuola Primaria di Castellone, Istituto Comprensivo "F.Amatuzio-Pallotta".

LE MARCHE

Lo stemma



Descrizione Analitica dello Stemma

Disegno stilizzato di un picchio che si sovrappone alla lettera maiuscola M, di colore nero, in campo bianco abbinato da una striscia verde in forma di arco.

Origini e Simbologia dello Stemma

Il picchio (simbolo tradizionale dell'Appennino, durante i vari secoli, delle popolazioni che parlavano come toscani, un uccello sacro) il picchio.

Gonfalone

Di colore bianco con la scritta "REGIONE MARCHE" in colore verde e con al centro lo stemma regionale. Il gonfalone è composto da 4 fasce (bianca, verde, bianca, rossa) annodate al di sotto del gonfalone.

Aspetto fisico

Le Marche si trovano nell'Italia centrale, sono bagnate dal Mar Adriatico e confinano con la Repubblica di San Marino.

La parte occidentale della regione è occupata dall'Appennino Umbro-Marchigiano, la cui vetta più alta è il Monte Vettore.

Nella zona compresa tra

L'EMILIA ROMAGNA

Gonfalone

Il gonfalone dell' Emilia Romagna



Capoluogo di Regione e province dell'Emilia Romagna

Emilia-Romagna

Le province dell'Emilia-Romagna

Consiglio | Governo

La distribuzione della popolazione rispetto alle province dell'Emilia-Romagna con l'indicazione dell'estensione territoriale e del numero dei comuni. Dati aggiornati al 31/12/2018 (ISTAT)

La stessa scala colorata può essere utile classificata nelle altre regioni.

Alcune informazioni per cambiare l'ordinamento:

- Popolazione residente
- Superficie km²
- Densità abitanti/km²
- Numero Comuni

IL FRIULI VENEZIA GIULIA

Friuli-Venezia Giulia

Il gonfalone

L'aquila dorata rappresentata sullo stemma del Friuli Venezia Giulia deriva da quella raffigurata su un vaso trovato nell'antica città Romana di Aquileia oggi vicino a Udine



IL VENETO

Gonfalone del Veneto



LE DOLOMITI



IL TRENTINO ALTO ADIGE

Stemma e Gonfalone



Stemma e Gonfalone Ufficio Servizi generali e rapporti con il p... regione

Informazioni sul Trentino alto Adige

Il Trentino-Alto Adige (nome ufficiale Regione Trentino-Alto Adige/Südtirol⁽⁸⁾) è una regione autonoma a statuto speciale dell'Italia nord-orientale di 1.066.770 abitanti (61.000.000)

CARMEN PARISI 2me

LAGGIO IN ITALIA (progetto eTwinning)

oro svolto dagli alunni della classe V della Scuola Primaria di Castellone, Istituto Comprensivo "F.Amatuzio-Pallotta".

LA LIGURIA

La cartina della Liguria



liguria02 gif
TXT document
padlet drive

Liguria

(542.024 ha)

Montagna
352.813
(65,1 %)

Collina
189.211
(34,9 %)



Italia

LA LOMBARDIA

Le Alpi
by Barbara Gallesio
YouTube



Meravigliosi laghi della Lombardia
Iscriviti al Nostro Canale: <http://www.you...>
YouTube


Il bellissimo lago di Garda



IL PIEMONTE

Lo stemma del Piemonte

Lo stemma del Piemonte deriva da uno stemma molto antico, precedente all'unità d'Italia, e riporta in sé i colori e i simboli delle famiglie importanti che allora governavano la regione.



LA VALLE D'AOSTA

Flora e fauna della Valle d'Aosta

Flora

Una ricchezza frutto di *biodiversità* e tutela ambientale.



La vegetazione valdostana vanta la presenza di **circa 2000 specie**

LA CAMPANIA

SIMBOLO

Il gonfalone è di colore azzurro, nero e reca al centro lo stemma ed in basso la scritta in oro "REGIONE CAMPANIA".
Il gonfalone completo con il nastro tricolore (verde, bianco e rosso) ornato al di sotto del gonfalone.

La Regione Campania ha assunto come proprio stemma quello della Repubblica marinara di Amalfi, ai suoi abissi. Esso è costituito da una banda rossa in campo bianco.



Caratteristiche del territorio



CARMEN PARISI · 2me

VIAGGIO IN ITALIA (progetto eTwinning)

Lavoro svolto dagli alunni della classe V della Scuola Primaria di Castellone, Istituto Comprensivo "F.Amatuzio-Pallotta".

LA PUGLIA

S.G., N.A., C.G. e P.L.

Territorio e popolazione



Il Gonfalone

LA BASILICATA

R.A., M.I., R.E. e R.G.

Territorio e popolazione



LA CALABRIA

R.M., M.I., T.S. e Z.A.

Territorio e popolazione



Lo Stemma

LA SICILIA

M.I., C.G. e C.F.

Territorio e popolazione



LA SARDEGNA

R.A., R.E. e R.G.

Territorio e popolazione





CARMEN PARISI · 2me

VIAGGIO IN ITALIA (progetto eTwinning)

Lavoro svolto dagli alunni della classe V della Scuola Primaria di Castellone, Istituto Comprensivo "F.Amatuzio-Pallotta".

LA PUGLIA

Il Gonfalone



LA BASILICATA

Lo Stemma



Descrizione Analitica dello Stemma

Reca il quattro onde d'azzurro in campo argenteo.

Origini e Simbologia dello Stemma

La parte superiore reca i quattro fiumi della regione: il Sinni, il Bradano e l'Urile.

Il Gonfalone

Di colore azzurro mare, reca al centro lo stemma regionale ed in alto l'iscrizione centrata in oro: "Regione Basilicata". Il gonfalone si completa con il nastro tricolore (verde, bianco e rosso) frangiato d'oro annodato al di sotto del puntale

LA CALABRIA

Lo Stemma



Descrizione Analitica dello Stemma

Reclinato in una cornice ovale, è inquadrato in croce di Sant'Andrea, con le seguenti figure disposte nel quadrante e nel braccio: in ALTO il pino larice, verde in campo d'oro, poggiante su una linea ondulata; in SINISTRA una croce nera; a DESTRA una croce nera; in basso un calice, nero in campo d'argento.

Origini e Simbologia dello Stemma

Il pino larice rappresenta le bellezze naturali della regione. La colonna ricorda l'età della Magna Grecia. La Croce Bianca, ricorda l'impresa siculo-aragonese di cui la Calabria fu teatro. La Croce Rossa, già presente negli stemmi della Calabria (Dre e della Calabria Ultra), ricorda il valore dei eroi calabresi durante la prima crociata.

Il Gonfalone

Di colore blu, con la scritta "Regione Calabria" in colore oro e reca al centro lo stemma regionale. Ha una foggia regolare movimentata alla base da una doppia curvatura, prima concava e poi convessa. All'innesto del puntale sull' asta del gonfalone è

LA SICILIA

Il gonfalone



LA SARDEGNA



Descrizione Analitica dello Stemma

Stato civile ornato da una corona sovrasta, sormontato da una croce rossa in quattro quarti, in ognuno dei quali è raffigurata una testa di moro bendata nella e sinistra di un guardo.

Var. 1 - Varianti ufficiali dello stemma



Stemma della Regione Sardegna come da D.P.R. 5 luglio 1952 (versione del Presidente della Repubblica Einaudi)

Gonfalone della Regione Sardegna come da D.P.R. 5 luglio 1952 (versione del Presidente della Repubblica Einaudi)

Se vuoi leggere tutti i contenuti collegati al sito: <https://it.padlet.com/carmenparisi/ceuqmue6vgouom15>

VERIFICHE CREATE DAGLI ALUNNI

Verifiche create dagli alunni dell' ICS San Salvo 2

Esercitatevi
con noi!

GRUPPO L

LAZIO

- Qual'è il fiume più importante che attraversa il Lazio?
- Quali sono le cime più alte del Lazio?
- Quale mare bagna le coste del Lazio?
- Quali regioni confinano con il Lazio?
- Quali sono le province e i capoluoghi del Lazio?

1.
 NERO
 TEVERE
 ARNO
2. DA REGGIO 2 X
 FORZANO
 ATLANTA
 TERMINILLO
3.
 MEDITERRANEO
 TIRRENO
 ADRIATICO

4.
 TOSCANA, UMBRIA, MARCHE, ABRUZZO, MOLISE E CAMPANIA.
 SVIZZERA, LIGURIA, PIEMONTE E PUGLIA.
5.
 EMILIA ROMAGNA, ABRUZZO, VENETIA, TIRRENO E TIRRENO ALTO ADIGE.

CHIETI PESCARA, TERAMO

I SERNIA

→
CAPOLUOGHI

L'AQUILA

CAMPORASSO

ROMA

PERUGIA

PIANURE:

FIUTI:

LAGHI:

MARE:

ISOLE

L'UMBRIA:

QUAL È IL MONTE PIÙ ALTO?

MONTE Catria

MONTE PENNA

MONTE Vettore

QUAL È IL LAGO DELL'UMBRIA?

LAGO DI GRACCIANO

LAGO TRASIMENO

LAGO DI SCANNO

QUALI E' IL CASOLUCO?

PERUGIA

ANCONA

CAMPOBASSO

QUEL E' LA PROVINCIA?

RIETI

TERNI

ISERNIA

COM'E' IL CLIMA?

MITE

CALDO

FREDDO

DOV'E' L'ALBERO PIU' GRANDE DEL MONDO?

ASSISI

PERUGIA

GUBBIO

DOVE SI SVOLGE LA CORSA DEI 3 CERI?

FERMI

GUBBIO

FERMO

INSERISCI NEL TESTO LE PAROLE CORRISPONDENTI.

TEVERE - ULIVO - VELINO - TURISMO - LAZIO - CASCATA DELLE

MARTORE - MILTE - MARCHE - TABACCO - TOSCANA - LENTICCHIE

L'UMBRIA CONFINA A NORD-OVEST CON LA _____, A EST

CON LE _____ E A SUD CON IL _____ . IL FIUME

PIU' IMPORTANTE E' IL _____ . IL FIUME _____ GETTA

DOSSI NEL FIUME NERA FORMANO LE _____

IL CLIMA E' PIUTTOSTO _____ . L'AGRICOLTURA PRODUCE

DUCE _____, _____ E _____ . IL

E' L'ATTIVITA' PIU' FIORENTE _____

COSA PRODUCE LA CASCATA DELLE MARTORE?

DA CHI FU COSTRUITA LA CASCATA DELLE MARTORE?

INSERISCI NEL TESTO LE PAROLE CORISPONDENTI:

ALBERO DI NATALE PIU' ALTO DEL MONDO - LEGNO - FESTA - 7 DICEM

BRE - CORZA - GUBBIO - INGINO - SANT'UBALDO - GUBBIO - SPALLA -

CORSA DEI TRE CERI

L' _____ E' A _____
E VIENE ACCESO IL _____ A _____ SI TIENE
LA FAMOSA _____ LA _____ E' IN QUOTE DI _____
I CERI SONO ENORMI COSTRUZIONI DI _____ FORTE
TE IN _____ DI _____ FINO AL MONTE _____

QUANDO SI TIENE LA CORSA DEI TRE CERI?

BLENCA ALCUNI PITTORI DELL'UMBRIA.

GRUPPO 3 = SILVIA - GAIA - HANJONY.

MOLISE

Segna con una x la risposta corretta:

il Molise confina con:

- Lazio, Sardegna, Sicilia, Campania, Mar Adriatico
- Puglia, Toscana, Lazio, Lombardia, Mar Tirreno
- Lazio, Abruzzo, Puglia, Campania, Mar Adriatico

possibili abitanti del Molise:

- 10 008 350
- 127 330
- 312 000

quali ~~popoli~~ ~~franchi~~ ~~complesso~~:

- Sanniti
- Longobardi

Rispondi alle seguenti domande

Come è il clima?

Quali Appennino si trova nel Molise?

Ove si svolge il festival della Zampogna?

Quali elementi si svolge?

Quali sono i due fiumi più importanti?

Ove si svolge la festa in molise?

Quali sono i due laghi?

GRUPPO 5

ALESSANDRO, MARIATERESA, ALESSIO

ABRUZZO

Qual è il capoluogo dell'Abruzzo? Quali sono le sue province?

L'Abruzzo con cosa confina?

Quali sono le cime più alte dell'Abruzzo?

Quali sono i fiumi più lunghi dell'Abruzzo? E dove si gettano?

Come sono le coste?

Com'è il clima?

Indica con V o F

Il turismo è una buona fonte di reddito V F

La festa dei serpenti si festeggia in onore di San Giacomo V F

In Abruzzo la meloncia è un tipico frutto di posto V F

In Abruzzo la lingua d'Abruzzo ^{romena} nel Parco Nazionale del Pollino V F

Segna con una x

L'Abruzzo è famoso per la produzione di:

passatelli orecchiette

zafferano leorrato

Le industrie tecnologiche dell'Abruzzo:

sono sviluppate non sono sviluppate

LA TOSCANA

1 Quanto misura la superficie della regione?

23 987 km²

19 987 km²

22 987 km²

2 Quanti sono gli abitanti della regione?

5 000 000

3 745 000

3 500 061

3 La Toscana confina con:---

4 Qual è il fiume più importante della regione?

5 Dove si trovano i soffioni boraciferi? Che energia producono?

6 Quali sono le Alpi della regione? Da che cosa sono formate?

7 Com'è il clima della regione nella parte centrale? E sulle coste?

8 Chi fu l'autore di pinnacchio:

Carlo Senzani

Carlo Callodi

Carlo Callaudi

9 Dove si svolge il palio? In che città?

10 Quali furono gli artisti che vissero e lavorarono a Firenze?

11 Dove nacque il calcio? In che anno?

12 In che anno Siracusa riceve i suoi omni d'oro?

13 Nei suoi omni d'oro, Siracusa da chi fu governata?

□ Re Filippo III

□ Medici

□ Imperatore Augusto

Gruppo n° 2:
Luca, Vittoria, Alessia

LE MARCHE

Con che stato confina le marche?

Quali sono i due principali fiumi delle marche?

Con che mare confina le marche?

- Mare Adriatico
- Mar Ionio
- Mar Tirreno

Qual è il settore più sviluppato nelle marche?

- settore primario
- settore secondario
- settore terziario

Qual è il capoluogo delle marche?

- Firenze
- Ancona
- Aquila
- Campobasso
- Bologna
- Macerata
- Aosta

Una di queste città non è una provincia delle marche. Indicaci con una x.

- Ascoli Piceno
- Fermo
- Macerata
- Pesaro
- Aosta

6) Quale centro storico è stato dichiarato patrimonio nazionale dal UNESCO?

7) Quale è il monte più basso delle marche?

8) Con che cosa confina le marche?

9) Quali sono le golosità delle marche?

10) Quali sono le tradizioni delle marche?

APPEUUNILIZAFFERAMO
TAEOOMZUSFFOUPQWES
EBSPOPQIZQFASTMOSF
RHCLNFPMTSFRZPQZ
NEAUAEPPPEUFESIQVNO
ODUOFAPQGUSRYPHIF
ZAFFERANOOTIGNOIMR
COXFRPZLPOSVVOOFO
AEOLMNETERAMOMTOFI
LHTIOANRSPUNOAPQZ
DINHQAFCIGSAPQQZH
EXNUINONAZERMQZAO
RYIIOOETRQOEObUMAO
OWRRGOAOAOPFMDI MP
NEWIEAIOFMSMFHQFLO
EOHZZHEPTMHSSSEFFQIA
FCHIETIQQTURISMOLN
ORIAZXYWIVLQPQZAO

- | | | |
|-----------|-----------|--------------|
| • Pescara | • Sarnano | • Gubbio |
| • Teramo | • Ancona | • Zeffereano |
| • Ancona | • Tronto | • L'Aquila |
| • Chieti | • Trigno | • Pesce |
| • Ascoli | • Aterno | • Turismo |

RESTIAMO IN CONTATTO DURANTE IL LOCKDOWN

Da marzo 2020 alla fine dell'anno scolastico le attività didattiche si sono svolte a distanza, a causa dell'emergenza sanitaria per il Covid-19.

Questa difficile situazione non ci ha fermato.

Ogni classe ha lavorato da casa condividendo tramite Twinspace le attività realizzate, fino a costruire insieme questo e-Book.

Questa esperienza ci ha insegnato a non arrenderci e a restare uniti e solidali anche se fisicamente distanti.





Sonia Speranzini

Carissimi, il nostro viaggio in Italia continua dalle nostre case.

Nei mesi di marzo e aprile ci siamo attivati ...

Facciamo lezione con l'aiuto di Hangouts meet e studiamo da casa con i materiali preparati e trasmessi dalle maestre...

Siamo restati uniti anche se fisicamente distanti...

E ora vogliamo condividere alcuni nostri lavori.

Nella pagina del Lazio potete trovare i primi materiali e disegni...

Classe 5B - Scuola Primaria E. Fermi - Milano



Like • Comments • Edit • Delete • Pin

19:20 25.04.2020



Sonia Speranzini

Ciao! Visita con noi l'Emilia Romagna, la Toscana, il Friuli, il Trentino, il Veneto...

Classe 5B - Scuola E. Fermi - via Carnia - 20132 Milano



Like • Comments • Edit • Delete • Pin

17:44 26.04.2020



Carmen Parisi

Buon pomeriggio a tutti,

gli alunni della Scuola Primaria di Castellone hanno terminato il lavoro condiviso di realizzazione di un padlet. Vi posto il link per dare un'occhiata. Spero vi piaccia.

<https://it.padlet.com/carmenparisi/ceuqmue6v9ouomi5>

Like • Comments • Edit • Delete • Pin

17:25 28.05.2020



Carmen Parisi

Buonasera colleghe,

gli alunni di classe V della scuola primaria di Bojano stanno continuando a lavorare sulle regioni d'Italia. A breve invierò i lavori svolti.

Un caro abbraccio a voi tutte.

Unlike • Comments • Edit • Delete • Pin

22:28 21.05.2020



Federica Petrignani

Durante l'attività di didattica a distanza i bambini hanno lavorato a questa presentazione in padlet della nostra regione l'Umbria.

<https://padlet.com/federicapetrignani/o5l1h37e1uag3st6>

Spero vi piaccia!

Federica Petrignani

Unlike • Comments • Edit • Delete • Pin

09:22 06.05.2020





Carmen Parisi

VIAGGIO IN ITALIA (progetto eTwinning)
Lavoro svolto dagli alunni della classe V della Scuola Primaria di Castellone, Istituto Comprensivo "F. Ameluzio Palotie"

IL MOLISE
M.I., A.N., C.F., D.C., I.N., S.G., M.R., M.A., N.A., P.L., R.A., R.E., R.G., R.M., T.S., Z.A. e C.G.

LA NOSTRA REGIONE
IL MOLISE

LABRUZZO
La Provincia dell'Aquila

IL LAZIO
Dove si trova la Regione Lazio
Il Lazio è una regione dell'Italia Centrale

LUMBRIA
La flora

Provincia di Teramo

Geografia fisica del Lazio
Mappa Concettuale

L'Abruzzo è una regione prevalentemente montuosa che negli ultimi anni è stata al centro

Buon pomeriggio, vi posto alcune immagini del padlet realizzato dagli alunni della Scuola Primaria di CASTELLONE



Arianna Bulleri

Buongiorno a tutti!

Ho caricato nella sezione Materiali - Files, i compiti di realtà dei miei bambini. Spero non sia troppo tardi!!!

Hanno preso alcune regioni e hanno creato una sorta di itinerario turistico. Il tutto svolto in gruppi tramite Meet... Speriamo che nella loro semplicità vi piacciono.

Un caro saluto e a presto!

Arianna

Unlike • Comments • Edit • Delete • Pin



1



1

10:01 11.06.2020



Sonia Speranzini

Ciao a tutti! Oggi vogliamo ringraziarvi per tutto quello che avete fatto per il progetto "Viaggio in Italia".

Questa mattina c'è stata l'ultima lezione di geografia ed arte e abbiamo rivisto insieme tutti i lavori che abbiamo condiviso in questi mesi.

Abbiamo ripensato a quando eravamo a scuola ed era bello fare delle ricerche di gruppo.

E' stato bello disegnare insieme e parlare tra di noi per condividere le nostre idee.

Ci siamo impegnati tanto anche quando la scuola è stata chiusa e abbiamo lavorato da casa anche se era più difficile. Abbiamo continuato a fare lezione on line con le nostre maestre e abbiamo inviato i nostri elaborati.

Grazie per aver letto tutti i nostri scritti e per aver condiviso con noi questo bellissimo VIAGGIO IN ITALIA!

Buone vacanze! Un carissimo saluto dalla classe 5B - Scuola Primaria E. Fermi - via Carnia 32 - Milano



Like • Comments • Edit • Delete • Pin

11:07 05.06.2020



Carmen Parisi

Ciao a tutti!

Anche noi questa mattina abbiamo svolto l'ultima lezione di geografia e lo abbiamo fatto in un modo molto particolare... Insieme alle maestre abbiamo visionato sul twinspace i lavori svolti durante l'anno.

Nonostante la chiusura della scuola, anche noi abbiamo continuato a lavorare e ad impegnarci, consegnando periodicamente lavori e consegne varie.


Espletare un progetto eTwinning è stata una bellissima esperienza, perchè abbiamo conosciuto altre realtà scolastiche e svolto attività molto accattivanti.

Grazie a voi per aver visionato i nostri elaborati; è stato emozionante viaggiare insieme a voi per l'Italia!

Buone vacanze dai vostri amici della classe quinta della Scuola Primaria di Castellone, I.C. "F.Amatuzio-Pallotta" Bojano, Molise.

Unlike • Comments • Edit • Delete • Pin

11:42 05.06.2020



Cari bambini, ora siete pronti per la scuola secondaria di I grado. Quanto avete imparato anche in quest'anno così particolare possa accompagnarvi come un bagaglio importante. Il viaggio continua! Noi maestre vi accompagniamo con affetto e simpatia!!!